




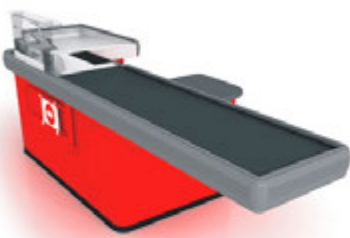



РАБОЧИЙ ЛИСТ РЕМЕННАЯ ПЕРЕДАЧА

1. Основной вопрос урока:

1.1. Запишите в таблицу ниже, какой механизм (зубчатая передача, рычаг, ременная передача) применяется в каждом устройстве?

1.2. Запишите отличия ременной передачи от зубчатой:

Ременная передача	Зубчатая передача

2. Эксперимент:

2.1. Заполните данные о конструкции гончарного круга:

Ременная передача	Передаточное отношение	Повышающая или понижающая	Проскальзывает или не проскальзывает
Начальная конструкция			
После замены шкивов			
Мультипликатор			

3. Выводы:

3.1. При каком передаточном отношении гончарный круг работал наиболее стабильно?

3.2. В чем плюсы и минусы ременной передачи?
